

ΕΠΑΝΑΛΗΠΤΙΚΕΣ ΠΑΝΕΛΛΑΔΙΚΕΣ ΕΞΕΤΑΣΕΙΣ

Δ' ΤΑΞΗΣ ΕΣΠΕΡΙΝΟΥ ΓΕΝΙΚΟΥ ΛΥΚΕΙΟΥ

ΔΕΥΤΕΡΑ 13 ΙΟΥΝΙΟΥ 2016

ΕΞΕΤΑΖΟΜΕΝΟ ΜΑΘΗΜΑ: ΦΥΣΙΚΗ ΠΡΟΣΑΝΑΤΟΛΙΣΜΟΥ (ΝΕΟ ΣΥΣΤΗΜΑ)

ΣΥΝΟΛΟ ΣΕΛΙΔΩΝ: ΕΞΙ (6)

**Θέμα Α**

Στις ερωτήσεις **A1-A4** να γράψετε στο τετράδιό σας τον αριθμό της ερώτησης και, δίπλα, το γράμμα που αντιστοιχεί στη φράση η οποία συμπληρώνει σωστά την ημιτελή πρόταση.

- A1.** Η σταθερά απόσβεσης  $b$  μιας φθίνουσας ταλάντωσης, στην οποία η αντιτιθέμενη δύναμη είναι ανάλογη της ταχύτητας,
- α) εξαρτάται από την ταχύτητα του σώματος που ταλαντώνεται
  - β) μειώνεται κατά τη διάρκεια της φθίνουσας ταλάντωσης
  - γ) έχει μονάδα μέτρησης στο S.I. το  $\text{kg} \cdot \text{s}$
  - δ) εξαρτάται από τις ιδιότητες του μέσου μέσα στο οποίο γίνεται η φθίνουσα ταλάντωση.

**Μονάδες 5**

- A2.** Κατά τη σύνθεση δύο απλών αρμονικών ταλαντώσεων, ίδιας διεύθυνσης και ίδιου πλάτους, που γίνονται γύρω από το ίδιο σημείο και που οι περίοδοι τους  $T_1$  και  $T_2$  διαφέρουν πολύ λίγο μεταξύ τους, προκύπτει ταλάντωση μεταβλητού πλάτους με περίοδο  $T$  που είναι ίση με

α) 
$$T = \frac{T_1 + T_2}{2}$$

β) 
$$T = \frac{2T_1 T_2}{T_1 + T_2}$$

γ) 
$$T = \frac{|T_1 - T_2|}{2}$$

δ) 
$$T = \frac{T_1 T_2}{|T_2 - T_1|}$$

**Μονάδες 5**

- A3.** Εγκάρσια μηχανικά ονομάζονται τα κύματα
- α) στα οποία όλα τα σημεία του ελαστικού μέσου ταλαντώνονται παράλληλα στη διεύθυνση διάδοσης του κύματος
  - β) στα οποία σχηματίζονται πυκνώματα και αραιώματα
  - γ) στα οποία όλα τα σημεία του ελαστικού μέσου ταλαντώνονται κάθετα στη διεύθυνση διάδοσης του κύματος
  - δ) που διαδίδονται στα αέρια.

**Μονάδες 5**

- A4.** Μια αθλήτρια του καλλιτεχνικού πατινάζ περιστρέφεται, χωρίς τριβές, έχοντας τα χέρια της σε σύμπτυξη. Όταν η αθλήτρια, κατά την περιστροφή της, απλώσει τα χέρια της σε οριζόντια θέση, τότε
- η στροφορμή της μειώνεται
  - η στροφορμή της αυξάνεται
  - η συχνότητα περιστροφής της αυξάνεται
  - η συχνότητα περιστροφής της μειώνεται.

**Μονάδες 5**

- A5.** Να χαρακτηρίσετε τις προτάσεις που ακολουθούν, γράφοντας στο τετράδιό σας, δίπλα στο γράμμα που αντιστοιχεί σε κάθε πρόταση, τη λέξη **Σωστό**, αν η πρόταση είναι σωστή, ή τη λέξη **Λάθος**, αν η πρόταση είναι λανθασμένη.

- Η ταυτόχρονη διάδοση δύο ή περισσότερων κυμάτων στην ίδια περιοχή ενός ελαστικού μέσου ονομάζεται συμβολή.
- Η ταχύτητα ροής ενός ασυμπίεστου ιδανικού ρευστού κατά μήκος ενός σωλήνα που δεν έχει σταθερή διατομή, είναι μεγαλύτερη εκεί που πυκνώνουν οι ρευματικές γραμμές.
- Η ροή ενός ρευστού είναι στρωτή, όταν παρουσιάζει στροβίλους.
- Η ροπή αδράνειας ενός στερεού σώματος είναι διανυσματικό μέγεθος.
- Σε μια κρούση αμελητέας χρονικής διάρκειας η δυναμική ενέργεια των σωμάτων, που εξαρτάται από τη θέση τους στο χώρο, δεν μεταβάλλεται.

**Μονάδες 5**

### **Θέμα Β**

- B1.** Ένα μικρό σώμα εκτελεί ταυτόχρονα δύο απλές αρμονικές ταλαντώσεις, με εξισώσεις απομάκρυνσης  $x_1 = A_1 \eta \mu \omega t$  και  $x_2 = A_2 \eta \mu(\omega t + \frac{\pi}{2})$  και με ενέργειες ταλάντωσης  $E_1$  και  $E_2$ , αντίστοιχα. Οι ταλαντώσεις γίνονται γύρω από το ίδιο σημείο και στην ίδια διεύθυνση. Η ενέργεια ταλάντωσης  $E$  της σύνθετης ταλάντωσης είναι ίση με :

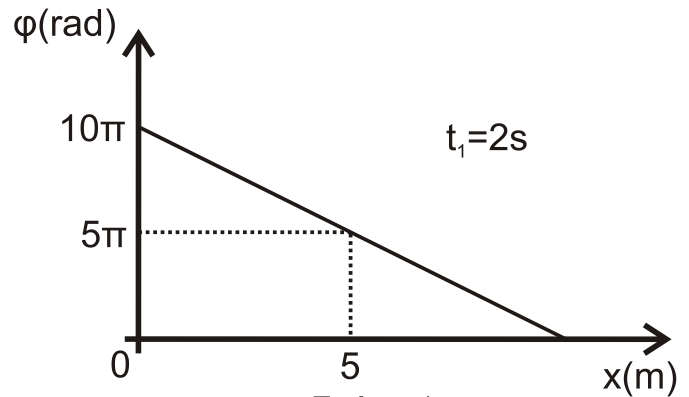
i.  $E = \frac{E_1 + E_2}{2}$       ii.  $E = E_1 + E_2$       iii.  $E = \sqrt{E_1^2 + E_2^2}$  .

- Να επιλέξετε τη σωστή απάντηση.
- Να δικαιολογήσετε την απάντησή σας.

**Μονάδες 2**

**Μονάδες 6**

- B2.** Εγκάρσιο αρμονικό κύμα διαδίδεται χωρίς απώλειες ενέργειας σε γραμμικό ελαστικό μέσο που ταυτίζεται με τον άξονα  $x'Ox$  προς τη θετική κατεύθυνση. Η πηγή του κύματος βρίσκεται στην αρχή  $O$  του άξονα  $x'Ox$  και εκτελεί απλή αρμονική ταλάντωση με εξίσωση  $y = A\eta\mu\omega t$ .



Σχήμα 1

Στο διάγραμμα του σχήματος 1 παριστάνεται η φάση των σημείων του ελαστικού μέσου σε συνάρτηση με την απόστασή τους  $x$  από την πηγή, τη χρονική στιγμή  $t_1 = 2s$ . Η ταχύτητα διάδοσης του κύματος είναι ίση με:

- i.  $u = 0,8 \text{ m/s}$       ii.  $u = 5 \text{ m/s}$       iii.  $u = 12,5 \text{ m/s}$

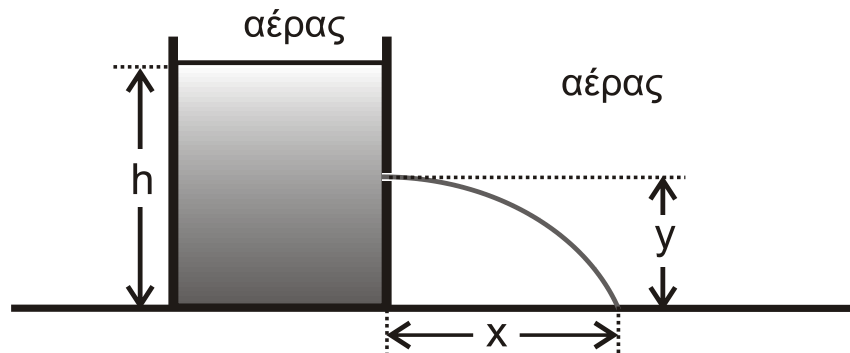
α) Να επιλέξετε τη σωστή απάντηση.

**Μονάδες 2**

β) Να δικαιολογήσετε την απάντησή σας.

**Μονάδες 6**

- B3.** Δοχείο με κατακόρυφα τοιχώματα περιέχει ένα ασυμπίεστο ιδανικό υγρό. Το ύψος του υγρού στο δοχείο είναι  $h$ , όπως φαίνεται στο σχήμα 2.



Σχήμα 2

Στο δοχείο ανοίγουμε μικρή οπή στο πλευρικό του τοίχωμα, σε ύψος  $y = h / 2$  από τη βάση του. Η φλέβα που δημιουργείται, συναντά το έδαφος σε οριζόντια απόσταση  $x$  από τη βάση του δοχείου.

Η απόσταση  $x$  είναι ίση με :

- i.  $h$       ii.  $h / 2$       iii.  $2 h$

α) Να επιλέξετε τη σωστή απάντηση.

**Μονάδες 2**

β) Να δικαιολογήσετε την απάντησή σας.

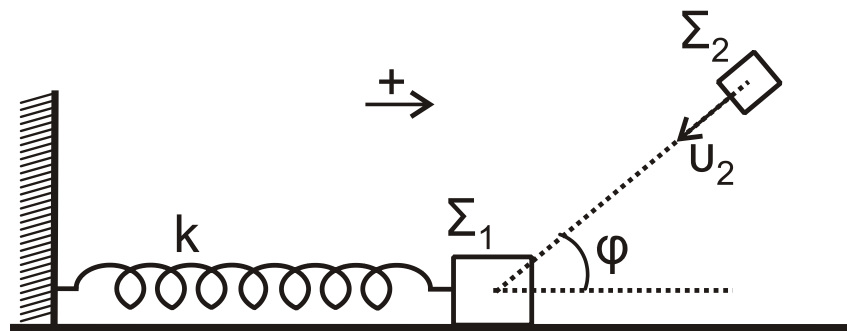
**Μονάδες 7**

**Θέμα Γ**

Σώμα  $\Sigma_1$ , μάζας  $m_1 = 1 \text{ kg}$ , είναι δεμένο στο άκρο οριζόντιου ιδανικού ελατηρίου σταθεράς  $k = 100 \text{ N/m}$ . Το άλλο άκρο του ελατηρίου είναι ακλόνητα στερεωμένο. Το σώμα  $\Sigma_1$  εκτελεί απλή αρμονική ταλάντωση, πλάτους  $A = 0,4 \text{ m}$ , σε λείο οριζόντιο επίπεδο. Τη χρονική στιγμή που το σώμα  $\Sigma_1$  έχει απομάκρυνση

$x_1 = + \frac{A\sqrt{3}}{2}$ , κινούμενο κατά τη θετική φορά, συγκρούεται πλαστικά με σώμα  $\Sigma_2$ ,

μάζας  $m_2 = 3 \text{ kg}$ . Το σώμα  $\Sigma_2$  κινείται, λίγο πριν την κρούση, με ταχύτητα  $u_2 = 8 \text{ m/s}$  σε διεύθυνση που σχηματίζει γωνία  $\varphi$  (όπου  $\sin\varphi = \frac{1}{3}$ ) με το οριζόντιο επίπεδο, όπως φαίνεται στο σχήμα 3. Το συσσωμάτωμα που προκύπτει μετά την κρούση, εκτελεί απλή αρμονική ταλάντωση.



Σχήμα 3

**Γ1.** Να υπολογίσετε την ταχύτητα του σώματος  $\Sigma_1$  λίγο πριν την κρούση (μονάδες 3) και την ταχύτητα του συσσωματώματος, αμέσως μετά την κρούση (μονάδες 4).

**Μονάδες 9**

**Γ2.** Να υπολογίσετε το πλάτος της ταλάντωσης του συσσωματώματος.

**Μονάδες 8**

**Γ3.** Να εκφράσετε την κινητική ενέργεια του συσσωματώματος σε συνάρτηση με την απομάκρυνση. Να σχεδιάσετε (με στυλό) σε βαθμολογημένους άξονες την κινητική ενέργεια του συσσωματώματος σε συνάρτηση με την απομάκρυνση.

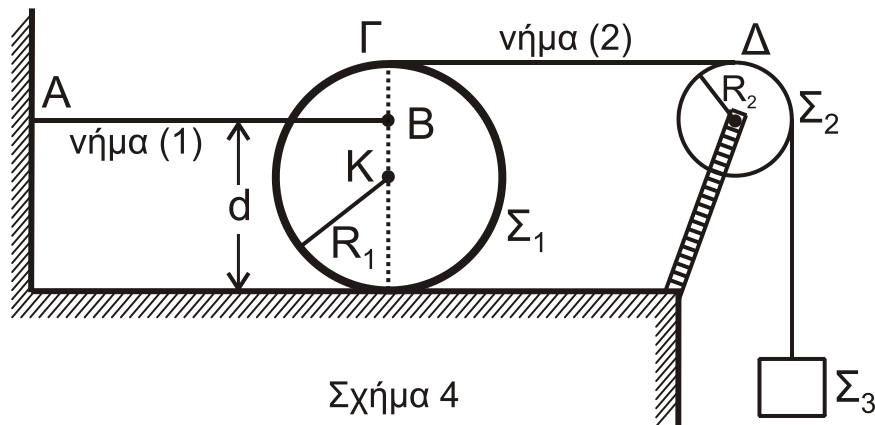
**Μονάδες 8**

Να θεωρήσετε ότι:

- η διάρκεια της κρούσης είναι αμελητέα.
- η θετική φορά είναι αυτή που φαίνεται στο σχήμα 3.

**Θέμα Δ**

Ομογενής δίσκος  $\Sigma_1$  έχει μάζα  $M_1 = 8 \text{ kg}$  και ακτίνα  $R_1 = 0,2 \text{ m}$ . Στο σημείο Β της κατακόρυφης διαμέτρου του δίσκου, που απέχει απόσταση  $d = \frac{3}{2}R_1$  από το οριζόντιο επίπεδο, είναι στερεωμένο οριζόντιο αβαρές μη εκτατό νήμα (1). Το άλλο άκρο Α του νήματος (1) είναι ακλόνητα στερεωμένο, όπως φαίνεται στο σχήμα 4. Γύρω από την περιφέρεια του δίσκου  $\Sigma_1$  είναι τυλιγμένο πολλές φορές άλλο δεύτερο αβαρές μη εκτατό νήμα (2), το οποίο διέρχεται από τροχαλία  $\Sigma_2$ , μάζας  $M_2 = 2 \text{ kg}$  και ακτίνας  $R_2 = 0,1 \text{ m}$ . Στο άλλο άκρο του νήματος (2) είναι συνδεδεμένο σώμα  $\Sigma_3$ , μάζας  $M_3 = 1 \text{ kg}$ . Το σύστημα αρχικά ισορροπεί. Το τμήμα ΓΔ του νήματος (2) είναι οριζόντιο.



**Δ1.** Να υπολογίσετε το μέτρο της τάσης που ασκεί το νήμα (1) στο δίσκο  $\Sigma_1$ .  
**Μονάδες 8**

Τη χρονική στιγμή  $t_0 = 0$  το νήμα (1) κόβεται. Το σώμα  $\Sigma_3$  κατέρχεται με επιτάχυνση. Η τροχαλία  $\Sigma_2$  αρχίζει να περιστρέφεται, χωρίς τριβές, γύρω από τον άξονά της και ο δίσκος  $\Sigma_1$  αρχίζει να κυλιέται, χωρίς να ολισθαίνει, πάνω στο οριζόντιο επίπεδο.

**Δ2.** Να υπολογίσετε το μέτρο της επιτάχυνσης του κέντρου μάζας του δίσκου  $\Sigma_1$ .  
**Μονάδες 12**

**Δ3.** Να υπολογίσετε το μέτρο της στροφορμής της τροχαλίας  $\Sigma_2$  τη χρονική στιγμή  $t_1 = 1 \text{ s}$ .

**Μονάδες 5**

Δίνονται :

- η ροπή αδρανείας του δίσκου ως προς τον άξονα περιστροφής που διέρχεται από το κέντρο μάζας του  $I_1 = \frac{1}{2} M_1 R_1^2$
- η ροπή αδρανείας της τροχαλίας ως προς τον άξονα περιστροφής που διέρχεται από το κέντρο μάζας του  $I_2 = \frac{1}{2} M_2 R_2^2$
- η επιτάχυνση της βαρύτητας  $g = 10 \text{ m/s}^2$ .

Να θεωρήσετε ότι :

- η τριβή του νήματος (2) τόσο με το δίσκο  $\Sigma_1$ , όσο και με την τροχαλία  $\Sigma_2$ , είναι αρκετά μεγάλη ώστε να μην παρατηρείται ολίσθηση.
- κατά τη διάρκεια όλου του φαινομένου, ο δίσκος παραμένει στο οριζόντιο επίπεδο, χωρίς να συγκρούεται με την τροχαλία.
- ο άξονας περιστροφής του δίσκου δεν αλλάζει κατεύθυνση, κατά τη διάρκεια της κίνησής του.
- το σώμα  $\Sigma_3$  έχει αμελητέες διαστάσεις.
- η αντίσταση του αέρα είναι αμελητέα.

### ΟΔΗΓΙΕΣ (για τους εξεταζομένους)

1. Στο εξώφυλλο του τετραδίου να γράψετε το εξεταζόμενο μάθημα. Στο εσώφυλλο πάνω-πάνω να συμπληρώσετε τα ατομικά σας στοιχεία. Στην αρχή των απαντήσεών σας να γράψετε πάνω-πάνω την ημερομηνία και το εξεταζόμενο μάθημα. Να μην αντιγράψετε τα θέματα στο τετράδιο και να μη γράψετε πουθενά στις απαντήσεις σας το όνομά σας.
2. Να γράψετε το ονοματεπώνυμό σας στο πάνω μέρος των φωτοαντιγράφων αμέσως μόλις σας παραδοθούν. Τυχόν σημειώσεις σας πάνω στα θέματα δεν θα βαθμολογηθούν σε καμία περίπτωση. Κατά την αποχώρησή σας να παραδώσετε μαζί με το τετράδιο και τα φωτοαντίγραφα.
3. Να απαντήσετε στο τετράδιό σας σε όλα τα θέματα μόνο με μπλε ή μόνο με μαύρο στυλό με μελάνι που δεν σβήνει. Μολύβι επιτρέπεται, μόνο αν το ζητάει η εκφώνηση, και μόνο για πίνακες, διαγράμματα κλπ.
4. Κάθε απάντηση επιστημονικά τεκμηριωμένη είναι αποδεκτή.
5. Διάρκεια εξέτασης: τρεις (3) ώρες μετά τη διανομή των φωτοαντιγράφων.
6. Ώρα δυνατής αποχώρησης: 18.30

**ΣΑΣ ΕΥΧΟΜΑΣΤΕ ΚΑΛΗ ΕΠΙΤΥΧΙΑ**

**ΤΕΛΟΣ ΜΗΝΥΜΑΤΟΣ**